



**Policz gałki lodów.
Zapisz odpowiednie równania.**



$$\square + \square = \square$$



$$\square + \square = \square$$

Narysuj odpowiednią ilość gałek.



5



3



2



4


Połącz lody z cyfrą zgodną
z ilością gałek.



4




5



3



6



2

**Narysuj w wafelku tyle samo gałek,
ile masz lat.
Pokoloruj rysunek.**

